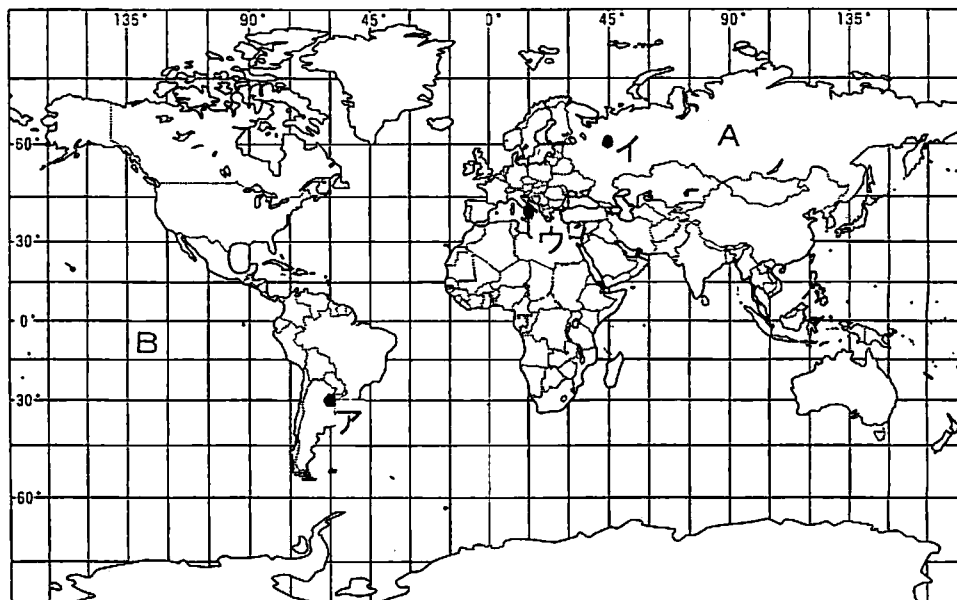


1

下の地図を見て、次の(1)～(4)の問いに答えなさい。



0 4000 km (ただし赤道上の縮尺)

(※経線・緯線は15度おきにひかれている)

(1) 地図中のAの大陸とBの大洋の組み合わせを正しく表しているものはどれですか。1～4の中から1つ選び、その番号を書きなさい。 ①

- 1 A：ユーラシア大陸 B：大西洋 2 A：ユーラシア大陸 B：太平洋
3 A：北アメリカ大陸 B：大西洋 4 A：北アメリカ大陸 B：太平洋

(2) 地図中のアとイの位置を、緯度・経度で表すとどのようになりますか。1～4の中から正しい組み合わせを1つ選び、その番号を書きなさい。 ②

- 1 ア：南緯30度，西経60度 イ：北緯60度，東経45度
2 ア：南緯60度，東経30度 イ：北緯45度，西経60度
3 ア：北緯30度，西経60度 イ：南緯60度，東経45度
4 ア：北緯60度，東経30度 イ：南緯45度，西経60度

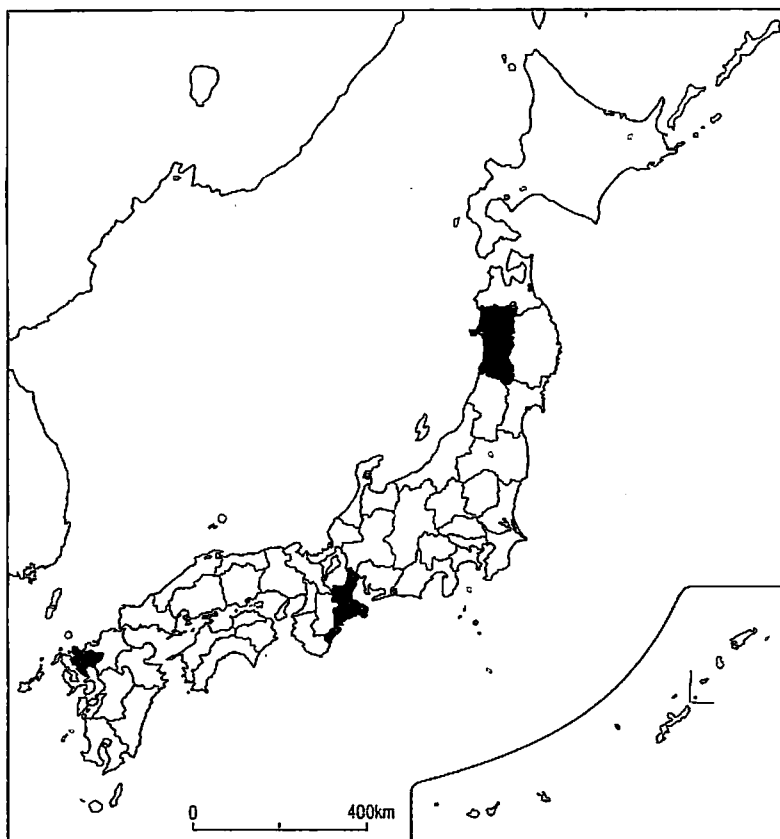
(3) 地図中のウの都市と東京との時差は何時間ありますか。経線をもとに考えて、1～4の中から1つ選び、その番号を書きなさい。 ③

- 1 2時間 2 4時間 3 6時間 4 8時間

(4) 地図をもとに、それぞれの地域について説明したものとして正しいものを、1～4の中から1つ選び、その番号を書きなさい。 ④

- 1 カナダは日本より低緯度に位置している。
2 メキシコには赤道が通っている。
3 スペインは日本と同じ緯度の範囲に位置している。
4 インドは南半球に位置する国の1つである。

2 下の地図を見て、次の(1)～(3)の問いに答えなさい。



(1) 下の説明文の□に適する語句を書きなさい。

6

日本列島は、北海道、□、四国、九州の4つの大きな島と周辺の小さな島々から成り立っています。

(2) 地図では、秋田県、静岡県、三重県、佐賀県の4県のうち、3県は黒くぬりつぶされています。残りの1県を鉛筆でぬりつぶしなさい。(答えは解答用紙の地図に書きなさい。)

6

(3) 新潟県、愛知県、愛媛県、大分県の4県から、次の□内のすべての条件にあてはまる県を、下の1～4の中から1つ選び、その番号を書きなさい。

7

- ・日本を大きく東日本と西日本に分けると、西日本に含まれる。
- ・瀬戸内海に面している。
- ・県名と県庁所在地名が違う。

1 新潟県 2 愛知県 3 愛媛県 4 大分県

3

下の地図は国土地理院発行の縮尺2万5千分の1の広島市の地形図です。これを見て、次の(1)～(3)の問いに答えなさい。



※地形図は、地名等が見えるように拡大されています。

(1) 市民球場から見ると、比治山公園はどの方位にありますか。正しいものを、1～4の中から1つ選び、その番号を書きなさい。 ⑧

- 1 北東 2 北西 3 南東 4 南西

(2) 原爆ドームから、広島大学まで、地図上では8cm離れています。実際の距離は何kmですか。 ⑨

(3) 地図から読み取れることとして正しいものを、1～4の中から1つ選び、その番号を書きなさい。 ⑩

- 1 広島城跡周辺には、工場が立ち並び、工業地域が形成されている。
- 2 平和記念公園の周辺には、寺院が多く集まっている。
- 3 広島大学は、丘の上に建っている。
- 4 広島市内は川が多いため、水田がいたるところに見られる。

4

下の表は、地図中のA～Dの各県の統計資料を示しています（同じ記号は同じ県を示す）。これらを見て、次の（1）～（3）の問いに答えなさい。

県名	面積 (100km ²)	人口 (万人)	産業別人口 (%)			農 業 産出額 (億円)	工 業 生産額 (出荷額/億円)	年間商品 販売額 (億円)
			第一次産業	第二次産業	第三次産業			
A県	93	123	11	35	54	2288	27178	29686
B県	52	600	4	25	71	4308	105349	122942
C県	84	557	3	30	67	1662	124588	131776
D県	92	177	12	24	64	4036	17592	43320

* 第一次産業は農林水産業、第二次産業は鉱工業・建設業など、第三次産業は商業・金融業・運輸業・サービス業など
(平成16年度版全国市町村要覧ほか)

(1) 表をもとにして正しく判断できることを、1～4の中から1つ選び、その番号を書きなさい。

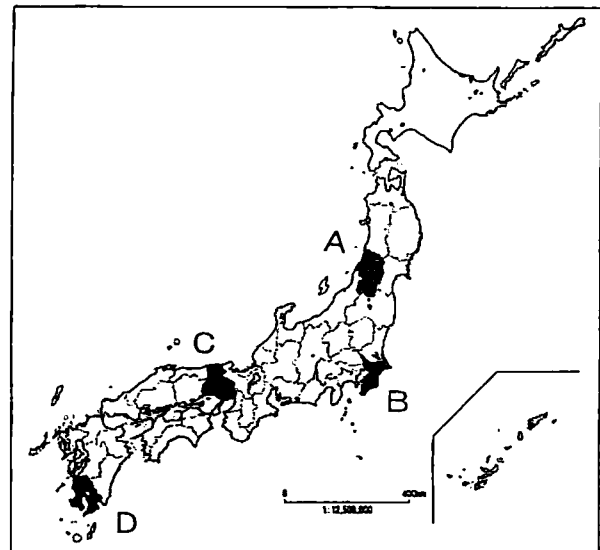
- ①
- 1 各県の県庁所在地の人口
- 2 各県の県民一人あたりの耕地面積
- 3 各県の人口増加率と高齢化の割合
- 4 各県の人口密度

(2) A～Dの県について、表から読み取れることとして正しいものを、1～4の中から1つ選び、その番号を書きなさい。

- ②
- 1 A県は4県の中で、最も人口が少ない。しかし、第二次産業に従事する人の割合は4県の中で最も多い。
- 2 B県はA県よりも、第三次産業に従事する人の割合が多い。しかし、年間商品販売額はA県よりも少ない。
- 3 C県は4県の中で、最も工業生産額が多い。また、農業産出額も4県の中で最も多い。
- 4 D県はC県よりも第一次産業に従事する人の割合が多い。また、工業生産額もC県よりも多い。

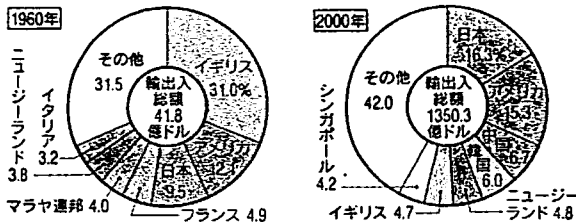
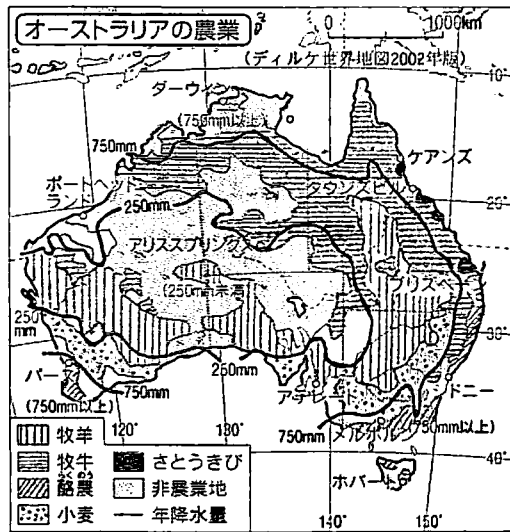
(3) A県とD県が、B県とC県と比べて工業生産額や年間商品販売額が少ない理由を、表の人口や産業別人口、県の位置に着目して、解答用紙の「A県とD県は」に続けて書きなさい。

③

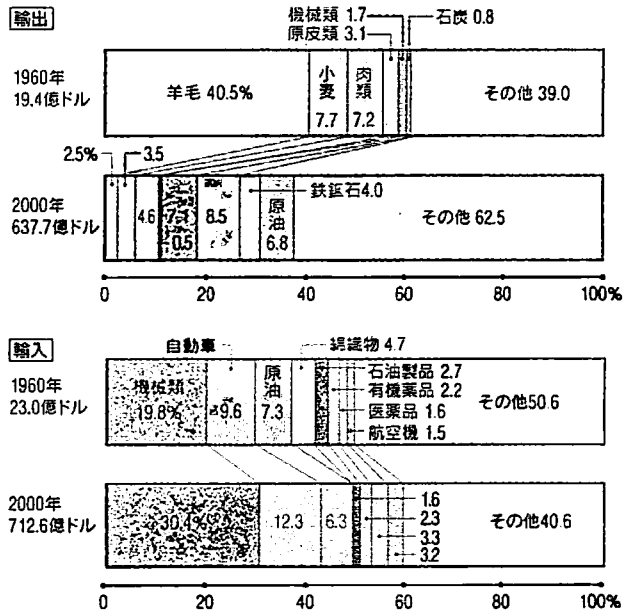


5

自由研究で、めぐみさんはオーストラリアについて調べました。下の資料をもとに、自由研究の発表をしたいと思います。これを見て、次の(1)、(2)の問いに答えなさい。



④ オーストラリアの貿易相手国の変化 (貿易統計年鑑)



⑤ オーストラリアの貿易品の変化 (貿易統計年鑑)

(1) 「オーストラリアの農業」の地図から、読み取れることとして正しいものを、1～4の中から1つ選び、その番号を書きなさい。

- 1 年降水量が250mm未満の地域では乾燥に強い小麦が多く栽培されている。
- 2 酪農が行われているおもな地域は、北部や東部の沿岸部である。
- 3 牧羊のほとんどは、年降水量が750mm以下の地域で行われている。
- 4 南部の一部の地域では、暑い気候を利用してさとうきびが栽培されている。

(2) 帯グラフと円グラフは、「オーストラリアの貿易品の変化」と「オーストラリアの貿易相手国の変化」を表しています。これらのグラフから読み取れることとして正しいものを、1～4の中から1つ選び、その番号を書きなさい。

- 1 オーストラリアでは、輸出品の中心は羊毛から小麦に変わってきている。
- 2 オーストラリアの輸入品の中心は、工業製品から鉱産資源に変わってきている。
- 3 オーストラリアの貿易相手国の中心は現在も欧米諸国であり、特にイギリスは最大の貿易相手国である。
- 4 オーストラリアの最大の貿易相手国が日本となるなど、アジア諸国との貿易の割合が大きくなってきている。

6

下の年表を見て、次の(1)～(3)の問いに答えなさい。

時代	おもなできごと
縄文	<p>○大陸から稲作や A が伝わる。</p> <p>○邪馬台国の卑弥呼が魏に使いを送る。</p> <p>○朝鮮半島にあった百濟から仏像・教典がおくられる。</p> <p>○聖徳太子が小野妹子を隋に送る。</p> <p>○唐から鑑真が来る。</p> <p>○最澄が B を建て、 C を広める。</p>
弥生	
古墳	
飛鳥	
奈良	
平安	

(1) 年表中の **A** にあてはまることがらを、1～4の中から1つ選び、その番号を書きなさい。 ⑯

- 1 石器 2 金属器 3 漢字 4 貨幣

(2) 年表中の **B** と **C** にあてはまることがらの正しい組み合わせを、1～4の中から1つ選び、その番号を書きなさい。 ⑰

- 1 B：延暦寺 C：天台宗
 2 B：延暦寺 C：真言宗
 3 B：金剛峯寺 C：天台宗
 4 B：金剛峯寺 C：真言宗


(3) 年表全体に題を付けるとすると、どれが最もふさわしいですか。1～4の中から1つ選び、その番号を書きなさい。 ⑱

- 1 古代の都と中国文明
 2 大和朝廷の全国統一
 3 日本と中国・朝鮮との交流
 4 日本とアジアの貿易

7


下のA, B, Cのカードは、「古代の文化」について、具体的な文化財をもとに、まなぶくんがまとめたものです。カードの内容を読んで、次の(1)～(3)の問いに答えなさい。

A



5世紀頃につくられた日本独特の形の古墳です。大和政権の支配の広がりとともに、このような古墳が、近畿地方以外にも見られるようになりました。

B



この頃には、仏教と唐の影響を強く受けた文化が栄えました。天皇は仏教の力にたよって国家を守ろうとして、都には東大寺、国ごとには国分寺を建てました。

C



平安時代の半ばの貴族たちは、日本の風土に合った文化を生み出していました。源氏物語や枕草子などの文学作品のほかに、浄土へのあこがれも広まりました。

(1) Aのカードの頃の時代の特徴として、最もふさわしい文を、1～4の中から1つ選び、その番号を書きなさい。 ⑩

- 1 当時の王は、九州から東北地方南部にいたる各地の豪族を従え、大王とよばれるようになりました。
- 2 朝鮮半島からの渡来人の子孫によって多くの仏像がつくられ、なかにはインドや西アジアなどの文化の影響も受けているものも見られます。
- 3 仏教を中心とする国づくりが始まり、盛んに中国に多くの留学生や僧を送りました。
- 4 はじめて戸籍がつくられ、口分田が与えられて、その人が死ぬと国に返すことになっていました。

(2) Bのカードの に入れる文化財として適切なものを、1～4の中から1つ選び、その番号を書きなさい。

㊟


1



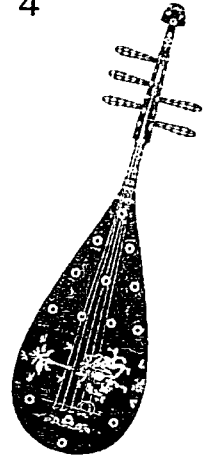
2



3



4



(3) Bの文化からCの文化への移り変わりをまとめた文として最も適切なものを、1～4の中から1つ選び、その番号を書きなさい。

㊟

- 1 貴族中心の文化から、町人中心の文化に移り変わった。
- 2 武士中心の文化から、貴族中心の文化に移り変わった。
- 3 国際的な文化から、日本的な文化に移り変わった。
- 4 日本独特の文化から、西洋風の文化に移り変わった。

8

次のA～Dの文は、鎌倉時代から戦国時代の頃までの動きをまとめたものです。これを読んで、次の(1)～(4)の問いに答えなさい。

A は、国ごとに守護を、荘園や公領ごとに地頭を置くことを認めさせ、鎌倉に幕府を開きました。



B 北条氏は、将軍を補佐する という地位につき、将軍の力を弱めて、幕府の実権を握るようになりました。



C 後醍醐天皇は朝廷に実権を取りもどそうとし、楠木正成や足利尊氏とともに挙兵し、鎌倉幕府を倒しました。



D 将軍は、京都を中心とするわずかな地方を支配するだけとなり、守護大名から領地を奪った戦国大名が各地に登場してきました。

(1) Aの資料の に適する人名を書きなさい。

㉔

(2) にあてはまる役職を、1～4の中から1つ選び、その番号を書きなさい。

㉕

1 摂政 2 関白 3 管領 4 執権

(3) ウの頃におこったできごとを、1～4の中から1つ選び、その番号を書きなさい。

㉖

- 1 元が、二度にわたって九州に攻めてきた。
- 2 明が、大陸沿岸をおそう倭寇の取りしまりを日本に求めてきた。
- 3 北陸などでは、浄土真宗の信仰で結び付いた武士や農民たちが一向一揆を起こした。
- 4 平清盛が、武士としてはじめて太政大臣となり、平氏の一族は高い位を独占した。

(4) Dの下線部の頃の様子について、正しく説明した文を、1～4の中から1つ選び、その番号を書きなさい。

㊦

- 1 はっきりとした主従関係ができ、武士は御家人として将軍に対して忠誠をちかうようになった。
- 2 下剋上の風潮が広がり、実力のある者が力をのばして上の身分の者にうちかつようになった。
- 3 武士が発言力を強めて大きな力をふるうようになり、貴族にかわって政治の中心となった。
- 4 戦乱のない安定した世の中になり、諸産業が盛んになり町が活気づいてきた。

9

たけしくんたちは、「近世の日本」のはじまりについて、年代順に下の表のようにまとめています。この表を見て、次の(1)～(4)の問いに答えなさい。

時代		国内の政治	外国との関係
戦国時代	室町時代	<p>戦国時代の混乱</p> <p>織田信長の登場 楽市・楽座</p>	<p>← A 人が種子島に漂着し、鉄砲を伝える。 ← キリスト教が伝来する。</p>
	安土桃山時代	<p>全国統一</p> <p>豊臣秀吉の登場 検地と刀狩 …… C 朝鮮に出兵する。</p> <p>関ヶ原の戦い</p>	
江戸時代	江戸幕府	<p>B の登場</p> <p>島原・天草一揆</p>	<p>→</p> <p>→ D</p>
	鎖国	<p>A 船の来航を禁止する。</p>	

- (1) A に共通してあてはまる外国の名前を書きなさい。 ㉔
- (2) B は、江戸幕府を開き、260年余りも続く平和な時代をつくりあげた人物です。適する人名を書きなさい。 ㉕
- (3) 下の資料は、表中のCにかかわるものです。この政策を行ったことによって、当時の社会はどのように変わりましたか。「武士」と「農民」の2つの言葉を使って、簡単に説明しなさい。 ㉖

諸国の百姓が刀やわきざし、弓、やり、鉄砲、そのほかの武具をもつことはかたく禁止する。不必要な武具をたくわえ、年貢その他の税をなかなか納入せず、ついには一揆をくわだてたりして、領主に対してよからぬ行為をする者は、もちろん処罰する。


- (4) 表中のDを正しく説明した文を、下の資料1と資料2を参考にして、あとの1～4の中から1つ選び、その番号を書きなさい。

資料1 鎖国令

一、異国へ奉書船以外の船を派遣することを固く禁止する。
一、異国へ渡り移住している日本人が帰国したら死刑にする。

* 奉書船：朱印状と老中の許可状をもつ船

資料2 踏み絵



- 1 中国が倭寇の取り締まりを日本に求めてきたため、江戸幕府は鎖国政策をとった。
- 2 農民が成長し、自治的な組織ができるようになったため、江戸幕府は鎖国政策をとった。
- 3 キリスト教の取り締まりを強化し、貿易を統制するため、江戸幕府は鎖国政策をとった。
- 4 豊臣秀吉の侵略でとだえていた朝鮮との関係を完全に断つために、江戸幕府は鎖国政策をとった。

10

まいさんは、京都について調べて、模造紙にまとめました。下の図はその下書きです。これを見て、次の(1)～(4)の問いに答えなさい。

京都の位置：	A
現代の京都	B
代表的な文化財	有名な出来事
C	D

(1) Aには、「京都の位置」を紹介したいと思います。下の紹介文の□に適する語句の正しい組み合わせを、1～4の中から1つ選び、その番号を書きなさい。 ㊦

京都は□ア□地方に属し、南は□イ□県、東は滋賀県と接している。

- | | |
|--------------|-------------|
| 1 ア：近畿 イ：和歌山 | 2 ア：近畿 イ：奈良 |
| 3 ア：中部 イ：兵庫 | 4 ア：中部 イ：三重 |

(2) Bには、「現代の京都」と題して、京都の基本的なデータを載せたいと思います。京都のデータとして正しいものを、宮城県を参考にして、1～4の中から1つ選び、その番号を書きなさい。 ㊦

	面積(100km ²)	人口(万人)	おもな産物
1	835	565	じゃがいも、肉牛、さけ・ます類
2	126	246	金属洋食器、米、まいたけ
3	46	257	ちりめん、せんす、たけのこ
4	23	136	パイナップル、さとうきび

【参考】

宮城	73	235	まぐろ類、かまぼこ、こけし
----	----	-----	---------------

- (3) Cには、京都に残る「代表的な文化財」を載せたいと思います。次のア～エの文化財を見て、京都に残る文化財の組み合わせとして正しいものを、下の1～4の中から1つ選び、その番号を書きなさい。 ㊦

ア




イ



ウ



エ



- 1 アとイ 2 ウとエ 3 アとウ 4 イとエ

- (4) Dには、京都でおきた「有名な出来事」を書きたいと思います。1～4の中からあてはまる出来事を1つ選び、その番号を書きなさい。 ㊦

- 1 源義経が平氏を追いつめて、壇ノ浦で滅ぼしました。
- 2 天草（益田）四郎という16歳の少年を大将にして、島原や天草地方で一揆が起きました。
- 3 律令国家の新しい都として、唐の都長安にならって、平城京がつくられました。
- 4 細川氏と山名氏が将軍のあとつぎ問題をめぐって対立し、11年間にわたる応仁の乱が始まりました。