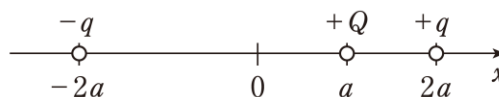


[ 例題 21 ] 真空中において、図のように、 $x$  軸上の  $x = a$  ( $> 0$ ) の点に正電荷  $+Q$  を、 $x = 2a$  の点に正電荷  $+q$  を、 $x = -2a$  の点に負電荷  $-q$  を置いた。このとき、正電荷  $+Q$  に働く静電力の大きさはどのように表されるか。ただし、真空の誘電率を  $\epsilon_0$  とする。



1.  $\frac{qQ}{3\pi\epsilon_0 a}$
2.  $\frac{qQ}{6\pi\epsilon_0 a}$
3.  $\frac{5qQ}{9\pi\epsilon_0 a^2}$
4.  $\frac{5qQ}{12\pi\epsilon_0 a^2}$
5.  $\frac{5qQ}{18\pi\epsilon_0 a^2}$

正答：5

[ 例題 22 ] 一次巻線、二次巻線の巻数がそれぞれ  $N_1$ 、 $N_2$  の理想変圧器を用いた図 I の回路では、電圧  $\dot{E}_1$ 、 $\dot{E}_2$ 、電流  $\dot{I}_1$ 、 $\dot{I}_2$  と巻線の巻数との間に次の関係が成立する。

$$\frac{\dot{E}_1}{\dot{E}_2} = \frac{\dot{I}_2}{\dot{I}_1} = \frac{N_1}{N_2}$$

$N_1 = 200$ 、 $N_2 = 100$  の理想変圧器を用いた図 II の回路において、電圧  $\dot{V}_R$ 、 $\dot{V}_T$  の大きさはそれぞれいくらか。

- |    | $\dot{V}_R$ の大きさ | $\dot{V}_T$ の大きさ |
|----|------------------|------------------|
| 1. | 20V              | 80V              |
| 2. | 30V              | 70V              |
| 3. | 40V              | 60V              |
| 4. | 50V              | 50V              |
| 5. | 60V              | 40V              |

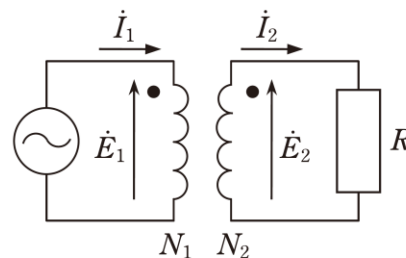


図 I

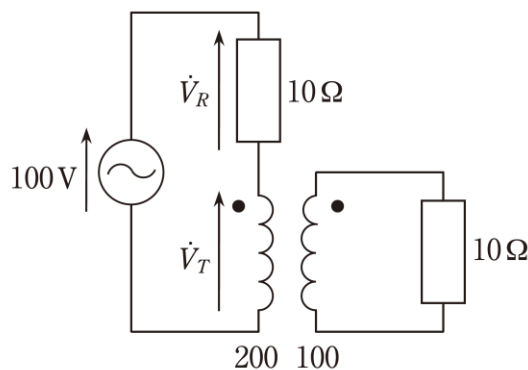


図 II

正答：1